

<b>RÉPUBLIQUE TUNISIENNE</b>  <b>MINISTÈRE DE L'ÉDUCATION</b>	<b>EXAMEN DU BACCALAURÉAT</b> <b>SESSION 2022</b>	<b>Session principale</b>
	Épreuve : <b>Mathématiques</b>	Section : <b>Sciences Techniques</b>
	Durée : <b>3h</b>	Coefficient de l'épreuve: <b>3</b>

N° d'inscription



Le sujet comporte 5 pages numérotées de 1/5 à 5/5.

Les pages 4/5 et 5/5 sont à rendre avec la copie.

**Exercice 1 : (4,5 points)**

Dans l'espace muni d'un repère orthonormé direct  $(O, \vec{i}, \vec{j}, \vec{k})$ , on donne les points

$$A(-1, -1, -1), B(-2, -1, 0), C(1, 1, -5) \text{ et le vecteur } \vec{N} \begin{pmatrix} 1 \\ 1 \\ 1 \end{pmatrix}.$$

1) a) Vérifier que  $\overline{AB} \wedge \overline{AC} = -2\vec{N}$ . En déduire que A, B et C ne sont pas alignés.

b) Soit P le plan passant par A, B et C.

Montrer qu'une équation de P est  $x + y + z + 3 = 0$ .

c) On considère les points E(1, 0, 2) et H(-1, -2, 0).

Vérifier que  $\overline{HE} = 2\vec{N}$ . En déduire que H est le projeté orthogonal de E sur le plan P.

d) Calculer le volume du tétraèdre EABC.

2) On considère dans l'espace, l'ensemble S des points M(x, y, z) tels que :

$$x^2 + y^2 + z^2 - 2x - 4z - 9 = 0.$$

a) Montrer que S est la sphère de centre E et de rayon  $\sqrt{14}$ .

b) Montrer que P coupe S suivant le cercle  $(\zeta_1)$  du plan P de centre H et de rayon  $\sqrt{2}$ .

c) Vérifier que A et B appartiennent à  $(\zeta_1)$ .

3) On considère le plan Q :  $x - 5y + z - 3 = 0$ .

a) Montrer que P et Q sont sécants suivant la droite (AB).

b) Vérifier que E  $\in$  Q.

c) En déduire que le plan Q coupe la sphère S suivant un cercle  $(\zeta_2)$  dont on précisera le centre et le rayon.

d) Montrer que  $(\zeta_1)$  et  $(\zeta_2)$  se coupent en A et B.

### Exercice 2 : (4 points)

On considère la suite  $(u_n)$  définie sur  $\mathbb{N}$  par 
$$\begin{cases} u_0 = 2 \\ u_{n+1} = \frac{2u_n - 1}{u_n}, n \in \mathbb{N}. \end{cases}$$

- 1)
  - a) Montrer par récurrence que pour tout entier naturel  $n$ ,  $u_n > 1$ .
  - b) Montrer que pour tout entier naturel  $n$ ,  $u_{n+1} - u_n = \frac{-(u_n - 1)^2}{u_n}$ .
  - c) Montrer que la suite  $(u_n)$  est convergente et calculer sa limite.
- 2) Soit  $(v_n)$  la suite définie sur  $\mathbb{N}$  par  $v_n = \frac{1}{u_n - 1}$ .
  - a) Montrer que  $(v_n)$  est une suite arithmétique de raison  $1$ .
  - b) Exprimer  $v_n$  en fonction de  $n$ .
  - c) En déduire que pour tout entier naturel  $n$ ,  $u_n = \frac{n+2}{n+1}$ .
- 3) On pose pour tout entier naturel  $n$ ,  $S_n = \ln(u_0) + \ln(u_1) + \dots + \ln(u_n)$ .
  - a) Vérifier que  $S_1 = \ln 3$ .
  - b) Montrer que pour tout entier naturel  $n$ ,  $S_n = \ln(n+2)$ .
  - c) Déterminer le plus petit entier naturel  $n$  tel que  $S_n > 10$ .

### Exercice 3 : (4,5 points)

Le plan est rapporté à un repère orthonormé direct  $(O, \vec{u}, \vec{v})$ .

On considère les points  $F$ ,  $G$  et  $I$  d'affixes respectives :

$$z_F = \left(1 + \frac{\sqrt{3}}{2}\right)i, z_G = \frac{\sqrt{3}-1}{2} + \frac{1}{2}i \text{ et } z_I = -\frac{1}{2} + i.$$

- 1)
  - a) Vérifier que  $z_F - z_I = \frac{1}{2} + i\frac{\sqrt{3}}{2}$  et  $z_G - z_I = \frac{\sqrt{3}}{2} - \frac{1}{2}i$ .
  - b) Montrer que  $F$  et  $G$  appartiennent au cercle  $(\zeta)$  de centre  $I$  et de rayon  $1$ .
  - c) Vérifier que  $z_F - z_I = i(z_G - z_I)$ . En déduire que le triangle  $IFG$  est rectangle en  $I$ .
- 2) Dans la figure 1 de l'annexe jointe, on a tracé le cercle  $(\zeta)$ .  
Construire les points  $F$  et  $G$ .
- 3)
  - a) Vérifier que  $(2 + 2\sqrt{3})i$  est une racine carrée de  $-16 - 8\sqrt{3}$ .
  - b) Résoudre dans  $\mathbb{C}$  l'équation :  $z^2 + 3z + \frac{25}{4} + 2\sqrt{3} = 0$ .
- 4) Soient  $K$  et  $L$  les points d'affixes respectives :  $z_K = -\frac{3}{2} + i(1 + \sqrt{3})$  et  $z_L = \overline{z_K}$ .
  - a) Montrer que  $\frac{z_K - z_F}{z_F - z_I} = i\sqrt{3}$ . En déduire que  $(FK) \perp (FI)$ .
  - b) Construire  $K$  et  $L$ .
  - c) Vérifier que  $z_G - z_L = (2 + \sqrt{3})(z_F - z_I)$ . En déduire que  $(GL) // (FI)$ .
  - d) Les droites  $(FK)$  et  $(GL)$  se coupent en un point  $D$ .

Montrer que le cercle  $(\zeta)$  est inscrit dans le triangle  $DKL$ .

**Exercice 4 : (7 points)**

1) Soit la fonction  $g$  définie sur  $]0, +\infty[$  par :  $g(x) = \frac{e^x}{e^x - 1}$ .

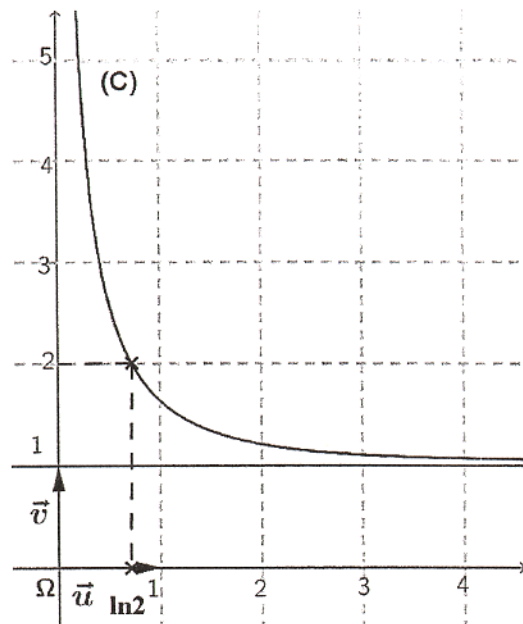
On donne ci-contre la courbe représentative (C) de  $g$  dans un repère orthonormé  $(\Omega, \vec{u}, \vec{v})$ .

En utilisant le graphique :

a) Déterminer  $g(\ln 2)$ ,  $\lim_{x \rightarrow 0^+} g(x)$  et  $\lim_{x \rightarrow +\infty} g(x)$ .

b) Justifier que pour tout  $x$  de  $]0, +\infty[$ ,

$$g'(x) < 0 \text{ et } g(x) > 1.$$



2) Soit  $f$  la fonction définie sur  $]0, +\infty[$  par  $f(x) = \ln(e^x - 1)$ .

Soit  $(\Gamma)$  sa courbe représentative dans un repère orthonormé  $(O, \vec{i}, \vec{j})$  du plan.

a) Calculer  $\lim_{x \rightarrow 0^+} f(x)$  et  $\lim_{x \rightarrow +\infty} f(x)$ .

b) Vérifier que pour tout réel  $x$  de  $]0, +\infty[$ ,  $f'(x) = g(x)$ .

c) Dresser le tableau de variation de  $f$ .

d) Vérifier que  $f(\ln 2) = 0$ . En déduire le signe de  $f(x)$  suivant les valeurs de  $x$ .

3) a) Montrer que pour tout réel  $x$  de  $]0, +\infty[$ ,  $\ln(g(x)) = x - f(x)$ .

b) En déduire que  $\Delta : y = x$  est une asymptote à la courbe  $(\Gamma)$  au voisinage de  $+\infty$ .

c) Montrer que  $(\Gamma)$  est au-dessous de  $\Delta$ .

4) Soit  $h$  la fonction définie sur  $]0, +\infty[$  par  $h(x) = f(x) - g(x)$ .

a) Vérifier que  $\lim_{x \rightarrow 0^+} h(x) = -\infty$  et que  $\lim_{x \rightarrow +\infty} h(x) = +\infty$ .

b) Montrer que l'équation  $f(x) = g(x)$  admet dans  $]0, +\infty[$  une solution unique notée  $\alpha$ .

5) Dans la figure 2 de l'annexe jointe, on a tracé la droite  $\Delta$  et on a placé le point de coordonnées  $(\alpha, f(\alpha))$ .

Tracer la courbe  $(\Gamma)$ .

6) a) Vérifier que  $\frac{e^{2x}}{e^x - 1} = e^x + \frac{e^x}{e^x - 1}$ . En déduire que  $\int_{\ln 2}^{\alpha} \frac{e^{2x}}{e^x - 1} dx = e^{\alpha} + f(\alpha) - 2$ .

b) Soit  $I = \int_{\ln 2}^{\alpha} e^x \ln(e^x - 1) dx$ .

Montrer à l'aide d'une intégration par parties que  $I = e^{\alpha} f(\alpha) - \int_{\ln 2}^{\alpha} \frac{e^{2x}}{e^x - 1} dx$ .

c) En déduire que  $I = 2$ .


Empty box for student information.

Section : ..... N° d'inscription : ..... Série : .....

Nom et Prénom : .....

Date et lieu de naissance : .....

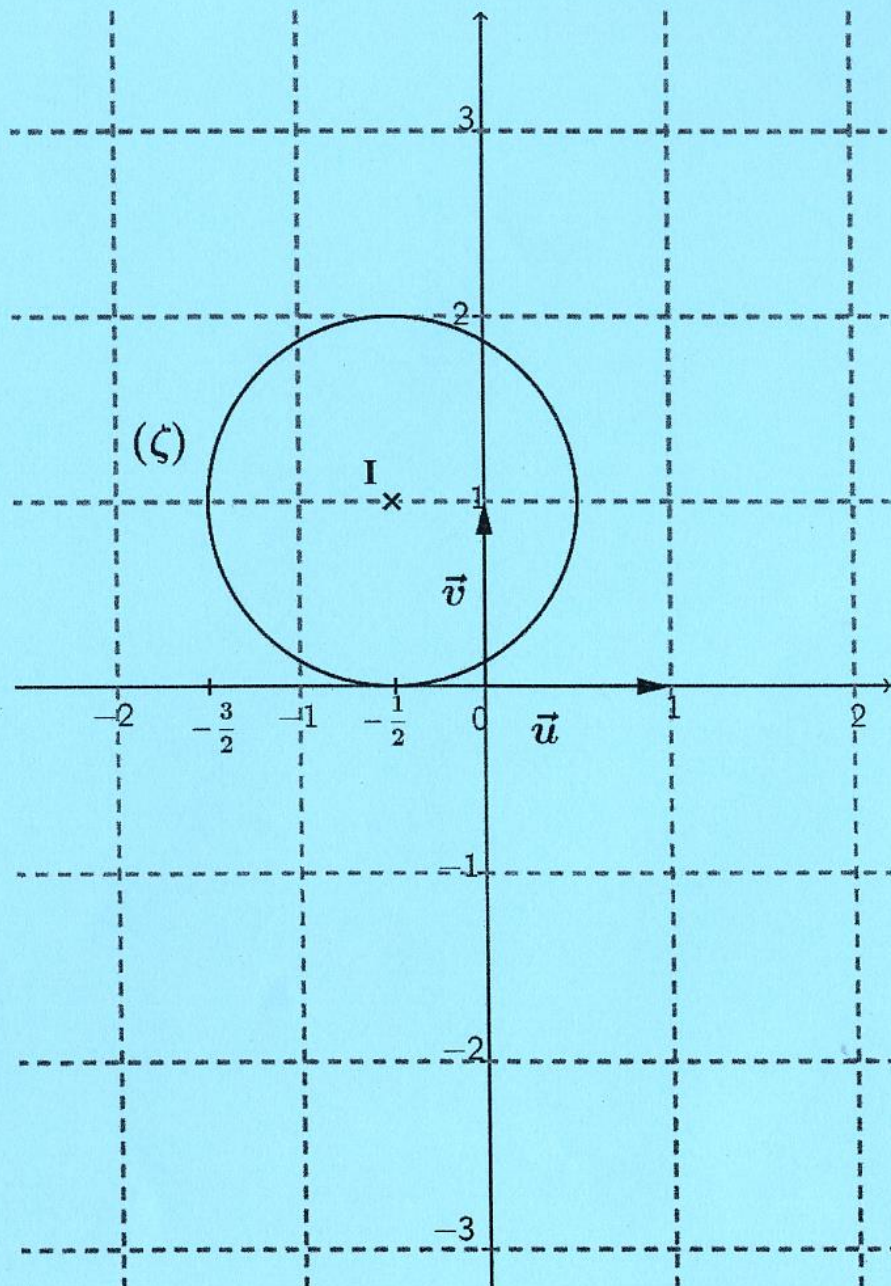
Signatures des surveillants  
.....  
.....



Empty box for student information.

**Épreuve: Mathématiques - Section : Sciences Techniques**  
**Session principale (2022)**  
**Annexe à rendre avec la copie**

figure 1 :



Ne rien écrire ici

figure 2 :

